

### 3. Wochenplan Klasse 4 vom 30.3. bis 3.4. 2020

#### Fach Deutsch:

Sprachbuch S. 76 Nr. 1 bis 4

-"- S. 77 Nr. 1 bis 4

-"- S. 80 - Freundeseite -

AH S. 49 Eine Mindmap erstellen

AH S. 51 Nr. 1, 2, 3 Wörter mit a/a  
oder au/äu

Lesefreunde AH S. 32 „Wolfsgeschichte“

-"- AH S. 33 „Tiergeschichten“

#### Fach Mathematik:

1. Lehrbuch S. 73 Achsensymmetrie  
Nr. 1 bis 4 (Nr. 2 und 4 im Heft 1)

2. Lehrbuch S. 74 Kreise und Muster

→ Benutze dein Geometrieheft Nr. 1 bis 7

→ AH S. 36 Nr. 1 bis 3

3. Lehrbuch S. 75 Drehen Nr. 1 bis 4

Nr. 5 ist Zusatz!

AH S. 37 Nr. 1 und 2

4. Lehrbuch S. 77 Verschieben Nr. 1 bis 6

AH S. 37 Nr. 3 und 4

5. AB - Formen spiegeln

Fach SuU: AB Nr. 1, 2 und 3

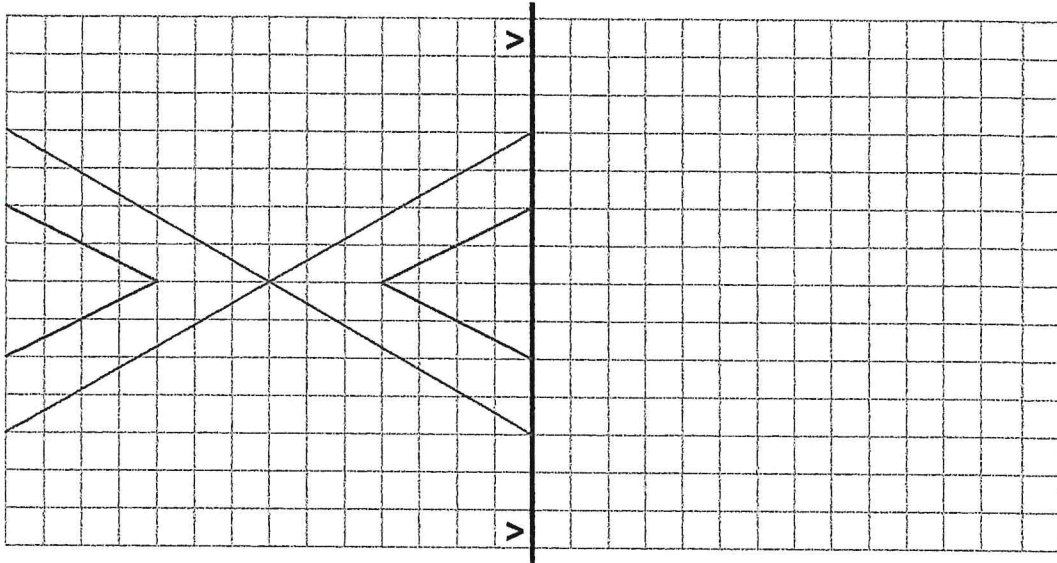
Ich wünsche allen Kindern und Eltern  
ein gesundes und schönes Osterfest.

# Mathematik / Geometrie

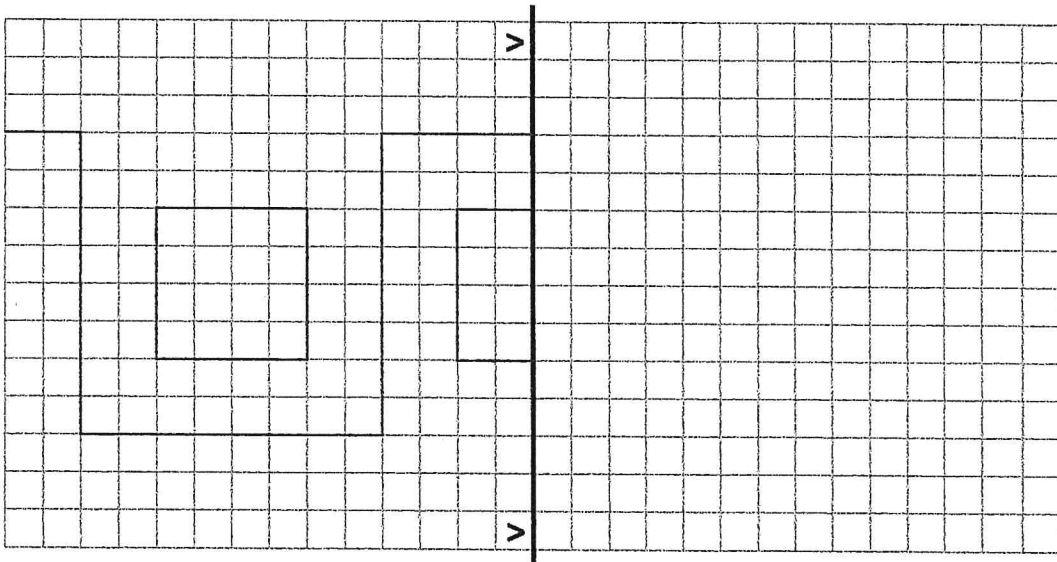
Matheaufgaben für die 3. und 4. Klasse: Formen spiegeln

Spiegle die geometrischen Formen auf die rechte Seite:

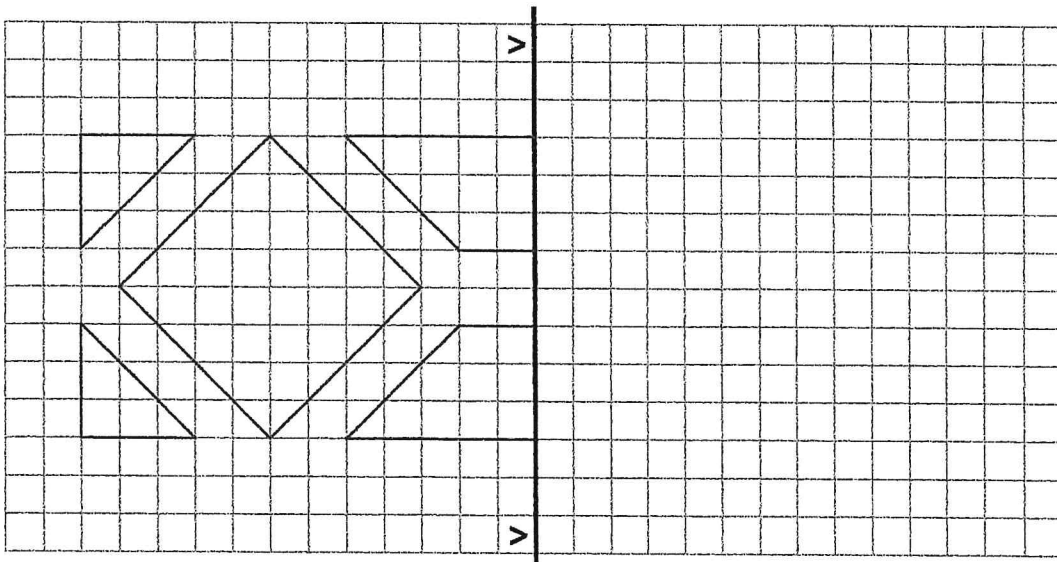
1)



2)



3)












## Übungs-Testbogen zur Radfahrprüfung (1)

## Übungs-Testbogen zur Radfahrprüfung (2)

Es kann eine Lösung oder mehrere Lösungen geben.

Es kann eine Lösung oder mehrere Lösungen geben.

Punkte 1	
1	<p>Wie musst du dich als Radfahrer verhalten?</p> <p><input type="checkbox"/> a) Ich muss den richtigen Abstand von drei Radlängen zum vorausfahrenden Radfahrer einhalten.</p> <p><input type="checkbox"/> b) Radfahrer dürfen auch ohne Abstand hintereinander fahren, wenn sie sehr langsam fahren.</p> <p><input type="checkbox"/> c) Radfahrer brauchen nicht auf einen Sicherheitsabstand zu achten.</p>
Punkte 2	
2	<p>Du fährst auf einen Fußgängerüberweg (Zebrastreifen) zu. Wie verhältst du dich richtig?</p> <p><input type="checkbox"/> a) Ich fahre schnell darauf zu, um vor den Fußgängern den Überweg zu überqueren.</p> <p><input type="checkbox"/> b) Ich fahre langsam auf den Zebrastreifen zu, beobachte die Fußgänger und bleibe, wenn nötig, stehen.</p> <p><input type="checkbox"/> c) Ich halte an, weil die Fußgänger auf dem Zebrastreifen Vorrang haben.</p>
Punkte 2	
3	<p>Die Ampel zeigt Grün. Wie verhältst du dich?</p> <p><input type="checkbox"/> a) Ich fahre weiter, denn der Lastwagenfahrer muss warten.</p> <p><input type="checkbox"/> b) Ich achte darauf, wie sich der Lastwagenfahrer verhält.</p> <p><input type="checkbox"/> c) Ich halte an und lasse den Lkw zuerst abbiegen.</p>
Punkte 1	
4	<p>Du folgst einer abknickenden Vorfahrtstraße nach rechts. Wie musst du dich gegenüber den Fußgängern verhalten?</p> <p><input type="checkbox"/> a) Ich befinde mich auf der Vorfahrtstraße und die Fußgänger müssen warten.</p> <p><input type="checkbox"/> b) Ich fahre zwischen den Fußgängern hindurch.</p> <p><input type="checkbox"/> c) Ich lasse die Fußgänger die Fahrbahn zuerst überqueren. Erst dann fahre ich weiter.</p>

Punkte 3	
5	<p>Du fährst an einem haltenden Fahrzeug vorbei. Nummeriere in der richtigen Reihenfolge.</p> <p><input type="checkbox"/> Handzeichen geben und wieder einordnen</p> <p><input type="checkbox"/> Seitenabstand halten</p> <p><input type="checkbox"/> Handzeichen geben</p> <p><input type="checkbox"/> Umschauen Einordnen</p> <p><input type="checkbox"/> Gegenverkehr beachten</p>
Punkte 2	
6	<p>Wie musst du dich als Radfahrer in einer verkehrsberuhigten Zone verhalten?</p> <p><input type="checkbox"/> a) Ich darf nur in Schrittgeschwindigkeit fahren.</p> <p><input type="checkbox"/> b) Ich muss auf andere Verkehrsteilnehmer und spielende Kinder achten.</p> <p><input type="checkbox"/> c) Ich muss mein Fahrrad schieben.</p>
Punkte 1	
7	<p>Müssen Radfahrer auf diesem gemeinsamen Fuß- und Radweg auf Fußgänger Rücksicht nehmen?</p> <p><input type="checkbox"/> a) Ja.</p> <p><input type="checkbox"/> b) Nein, weil Radfahrer Vorrang haben.</p>
Punkte 2	
8	<p>Was musst du beachten, wenn du an parkenden Fahrzeugen vorbeifährst?</p> <p><input type="checkbox"/> a) Ich klingele.</p> <p><input type="checkbox"/> b) Ich halte genügend Sicherheitsabstand.</p> <p><input type="checkbox"/> c) Ich rechne damit, dass plötzlich eine Autotür geöffnet wird.</p>
Punkte 1	
9	<p>Wer hat hier Vorfahrt?</p> <p><input type="checkbox"/> a) Radfahrer</p> <p><input type="checkbox"/> b) Autofahrer</p>

## Übungs-Testbogen zur Radfahrprüfung (3)

Es kann eine Lösung oder mehrere Lösungen geben.

Punkte 4

10 Du möchtest hier nach links abbiegen. Setze richtig ein.

1 \_\_\_\_\_

2 Handzeichen geben \_\_\_\_\_

3 \_\_\_\_\_

4 \_\_\_\_\_


5 Gegenverkehr Vorrang gewähren \_\_\_\_\_

6 \_\_\_\_\_

7 Richtig abbiegen \_\_\_\_\_

8 Auf Fußgänger achten \_\_\_\_\_

Punkte 1




11 Jeder will geradeaus über die Kreuzung fahren. Wer fährt als Letzter?

a) Radfahrer A

b) Pkw B

c) Kombi C

Punkte 2



12 Wie müssen sich die Verkehrsteilnehmer im Kreisverkehr verhalten?


a) Der Radfahrer hat Vorrang.

b) Der Pkw hat Vorrang, weil er von rechts kommt.

c) Der Radfahrer muss beim Verlassen des Kreisverkehrs Handzeichen geben.

d) Der Pkw-Fahrer muss beim Einbiegen in den Kreisverkehr Richtungszeichen geben.

Punkte 1



13 Aus dem haltenden Bus steigen Fahrgäste aus. Wie verhältst du dich als Radfahrer?

a) Ich weiche auf den Gehweg aus und fahre schnell vorbei.

b) Ich weiche auf die Straße aus und überhole den Bus.


c) Ich halte an und warte, bis der Radweg wieder frei ist.



## Übungs-Testbogen zur Radfahrprüfung (4)

Es kann eine Lösung oder mehrere Lösungen geben.

Punkte 2




14 Wie musst du dich als Radfahrer verhalten, wenn der Polizist so in der Kreuzung steht?

a) Ich fahre noch schnell über die Kreuzung.

b) Ich halte an.

c) Ich warte das nächste Zeichen des Polizisten ab.

Punkte 1

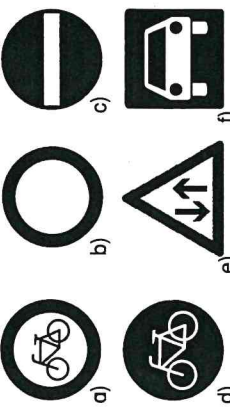


15 Was bedeutet dieses Verkehrszeichen für dich?

a) Ich muss warten.

b) Ich darf fahren.

Punkte 2




16 Bei welchen dieser Verkehrszeichen darfst du als Radfahrer nicht weiterfahren?

a)  d)

b)  e)

c)  f)

Punkte 2




17 Du willst als Radfahrer geradeaus weiterfahren.

a) Ich verringere die Geschwindigkeit, um schnell anhalten zu können.

b) Ich fahre möglichst schnell geradeaus weiter, weil ich Vorfahrt habe.

c) Ich nehme Blickkontakt zum Autofahrer auf, um zu sehen, ob er mir Vorfahrt lässt.

Punkte 1




18 Wer verhält sich hier falsch?

a) Radfahrer A

b) Radfahrer B

c) Radfahrer C

d) Traktorfahrer D



# Schiebespiel: Verkehrszeichen

	Verbot der Einfahrt		Verbot für Fahrzeuge aller Art
	Verbot für Radfahrer		Gefahrstelle
	Baustelle		Gegenverkehr
	Einseitig rechts verengte Fahrbahn		Unbeschränkter Bahnübergang
	Vorfahrt gewähren!		Halt! Vorfahrt gewähren!
	Dem Gegenverkehr Vorrang gewähren!		Vorfahrtstraße
	Vorfahrt an der nächsten Kreuzung		Einbahnstraße! Fahrtrichtung links
	Kreuzung oder Einmündung mit Vorfahrt von rechts		Getrennter Rad- und Fußweg
	Gemeinsamer Fuß- und Radweg		Sonderweg für Radfahrer



- 1 Schneide die beiden Streifen aus, falte sie der Länge nach und klebe jeden Streifen Rücken an Rücken.
- 2 Schneide das Fensterfeld aus, falte es und klebe es an den Klebeflächen zusammen.
- 3 Schiebe einen Streifen durch das Fensterfeld. Kennst du alle Verkehrszeichen? Die Rückseite dient der Kontrolle

